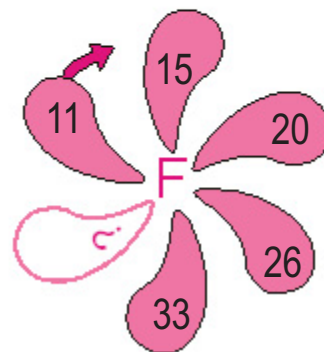
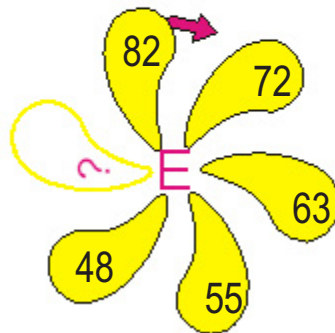
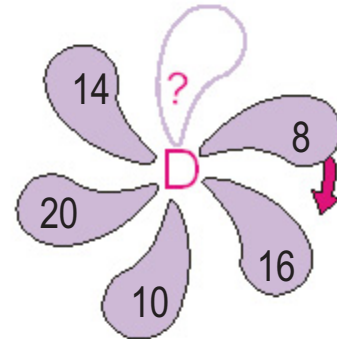
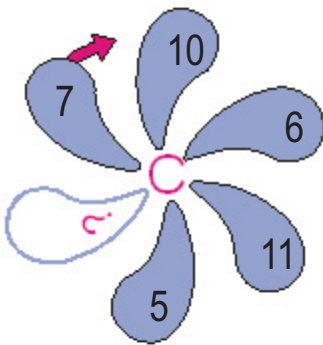
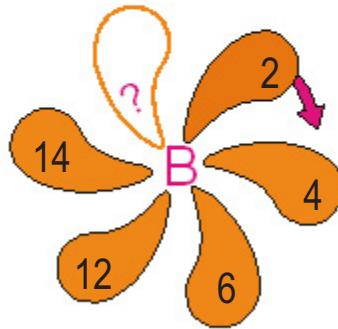
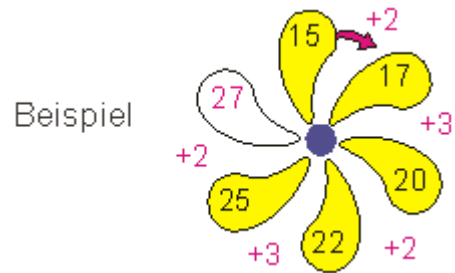



Durch die Blume gerechnet

Jede Blüte ist nach einem logischen System gewachsen. Finden Sie - wie beim Beispiel - die einzelnen Rechenschritte von einem Blütenblatt zum nächsten heraus. Dann wissen Sie, welche Zahl am Schluss im weißen Feld stehen muss. Beginnen Sie bei der Zahl mit dem Pfeil zu rechnen.



Lösung am Ende des Heftes